


Handwritten text in a historical script, likely Latin, located at the top of the page.



4°

Ciencias
Sociales

Handwritten text in a historical script, likely Latin, located at the bottom of the page.



Guía de aplicación

Área / Asignatura:	Ciencias Sociales
Grado :	Cuarto
Período :	Segundo
Alumno:	
Guía No.: 1.2	Regiones Naturales de Colombia

1. Define recursos naturales y enuncia cinco que pertenezcan a Colombia.

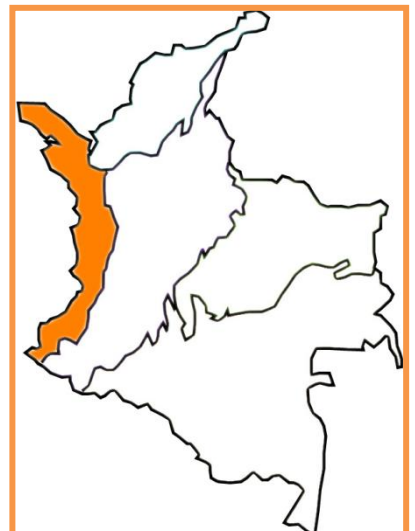
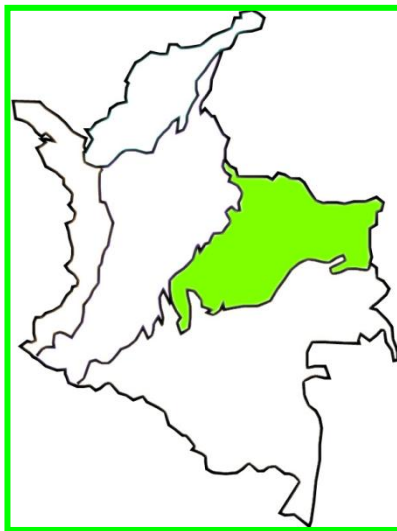
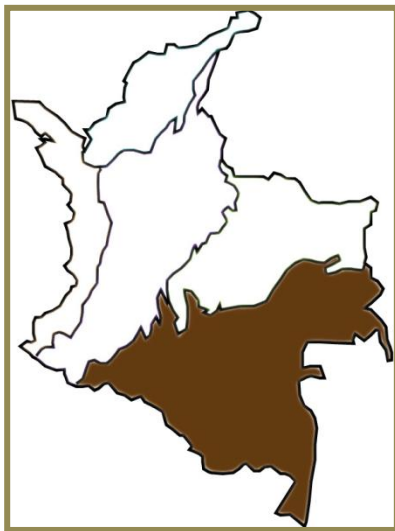
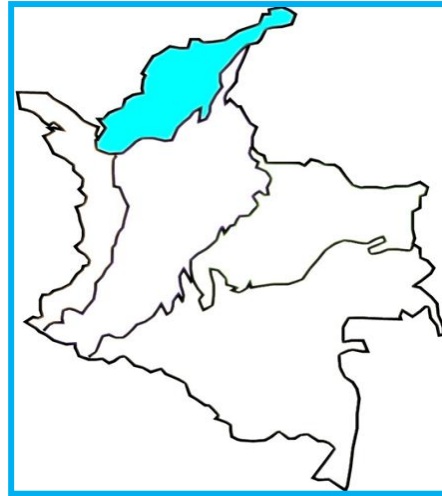
2. Escribe los productos de la canasta familiar de tu casa.





Unidad 2

3. Completa los cuadros con los nombres de la regiones, averigua cual falta, escribe sus nombres:





Unidad 2

4. Escribe los nombres de las regiones del país y coloréalas.





Unidad 2

5. Elabora el mapa hidrográfico de la región Pacífico.

6. Busco en la siguiente sopa de letras los nombres de tres Parques Nacionales y seis grupos indígenas de la región Pacífica.

M	N	O	A	N	A	M	A	N	I	N
U	O	D	C	I	T	A	R	A	E	S
N	A	I	H	P	R	S	O	L	E	E
C	K	G	O	R	G	O	N	A	L	M
H	A	C	C	H	O	C	O	E	S	B
I	T	U	O	Z	N	A	G	H	F	E
Q	I	N	E	Q	M	M	A	B	D	R
U	O	A	S	U	N	U	L	M	P	A
E	S	S	E	A	O	T	U	I	S	L





Unidad 2

7. Resuelve el siguiente geograma acerca de la región Caribe.

1.									
2.									
3.									
4.									
5.									
6.									
7.									

1. Se le considera patrimonio histórico de la humanidad.
2. Río más importante que baña la región.
3. Mineral de exportación localizado en Monteliebano, Córdoba.
4. Complejo industrial ubicado en Cartagena.
5. Departamento propicio para la explotación de sal marina.
6. Principal producto agrícola del Cesar.
7. Yacimiento carbonífero ubicado en la Guajira.

Dibuja dos animales típicos de la región Caribe.





Unidad 2

8. Investiga y completa el siguiente cuadro:

Departamento	Recursos minerales	Principales cultivos	Platos típicos
Boyacá	Hierro, esmeraldas, carbón	Cebada, papa, trigo	Cocido boyacense
Antioquia			
Santander			
Tolima			
Nariño			

9. Resuelvo el siguiente geograma:

1. Principal yacimiento que se encuentra en Paz del Río (Boyacá).
2. Se cultiva y se consume en todos los departamentos de los Región Andina.
3. Cultivo mixto, propio de regiones frías. Crece en espigas.
4. Producto de exportación de la región Andina. Se cultiva en Cundinamarca y Antioquia.
5. Mineral que utilizamos diariamente. En Zipaquirá existe una catedral.

1						
2						
3						
4						
5						





Unidad 2

10. Dibuja el croquis de la región andina y en él ubica los 13 departamentos con sus capitales y parques naturales.





Unidad 2

11. Investiga de cada región su plato típico, escribe su nombre, la región a la cual pertenece y dibújalo en los recuadros.





Unidad 2

12. Dibuja en el siguiente croquis los principales ríos de Colombia, desde su nacimiento hasta su desembocadura. Escribe sus nombres.





Unidad 2

13. Dibuja en el siguiente croquis dos parques naturales de cada una de las regiones de Colombia.





Unidad 2

14. Investiga sobre las culturas indígenas, busca una imagen y escribe el nombre y la región a la cual pertenece.

--	--


--	--

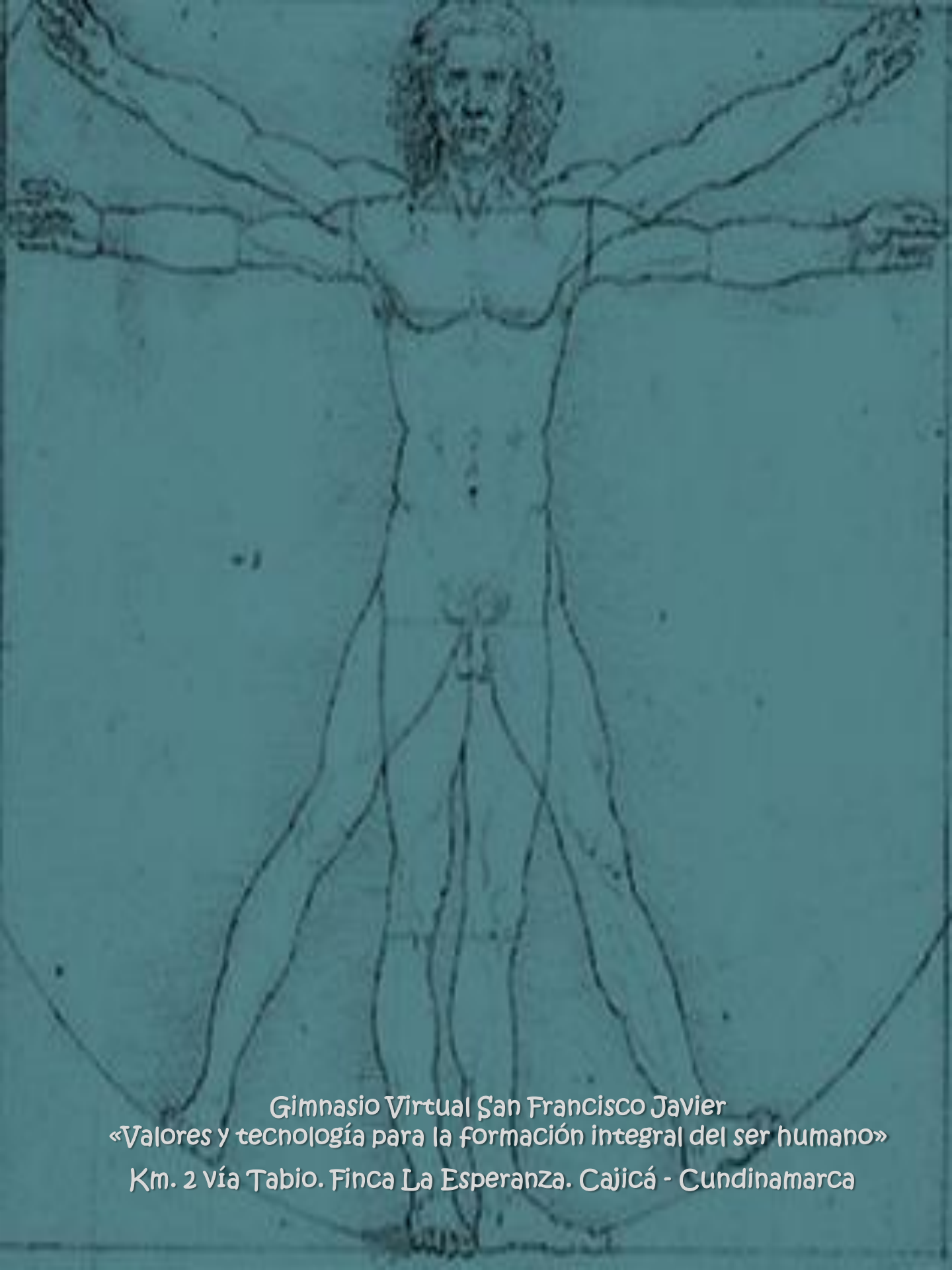
¡Felicitaciones!

Has terminado la unidad dos del área de ciencias sociales.

No olvides enviar por email la guía y actividades desarrolladas.

Nos vemos en la siguiente unidad!





Gimnasio Virtual San Francisco Javier
«Valores y tecnología para la formación integral del ser humano»
Km. 2 vía Tabio. Finca La Esperanza. Cajicá - Cundinamarca