



Guía de aplicación

Área / Asignatura:	Matemáticas
Grado :	Segundo
Período :	Primero
Alumno:	
Guía No.: 1.1	Añición y sustracción

1. Suma:

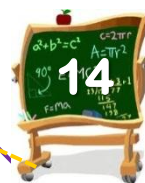
$$2 + 8 = \square$$

$$8 + 5 = \square$$

$$3 + 2 = \square$$

$$1 + 4 = \square$$

$$4 + 4 = \square$$





Unidad 3

2. Arma el payaso. Realiza las sumas y las restas de cada una de sus partes.

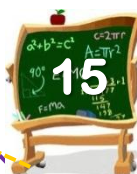
$1 + 4 =$

$1 + 4 =$

$1 + 6 =$

$8 + 1 =$

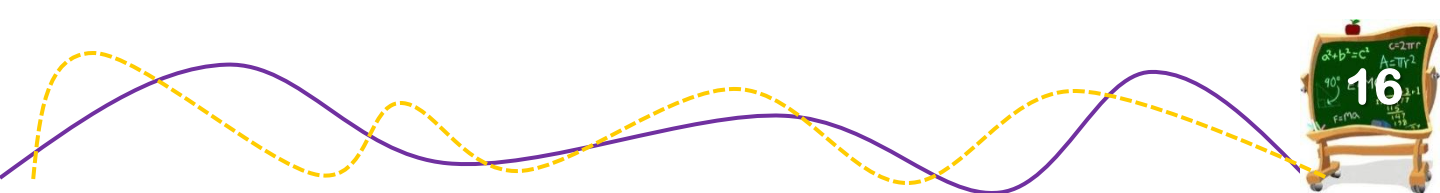

$5 + 2 =$





Unidad 3

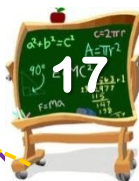
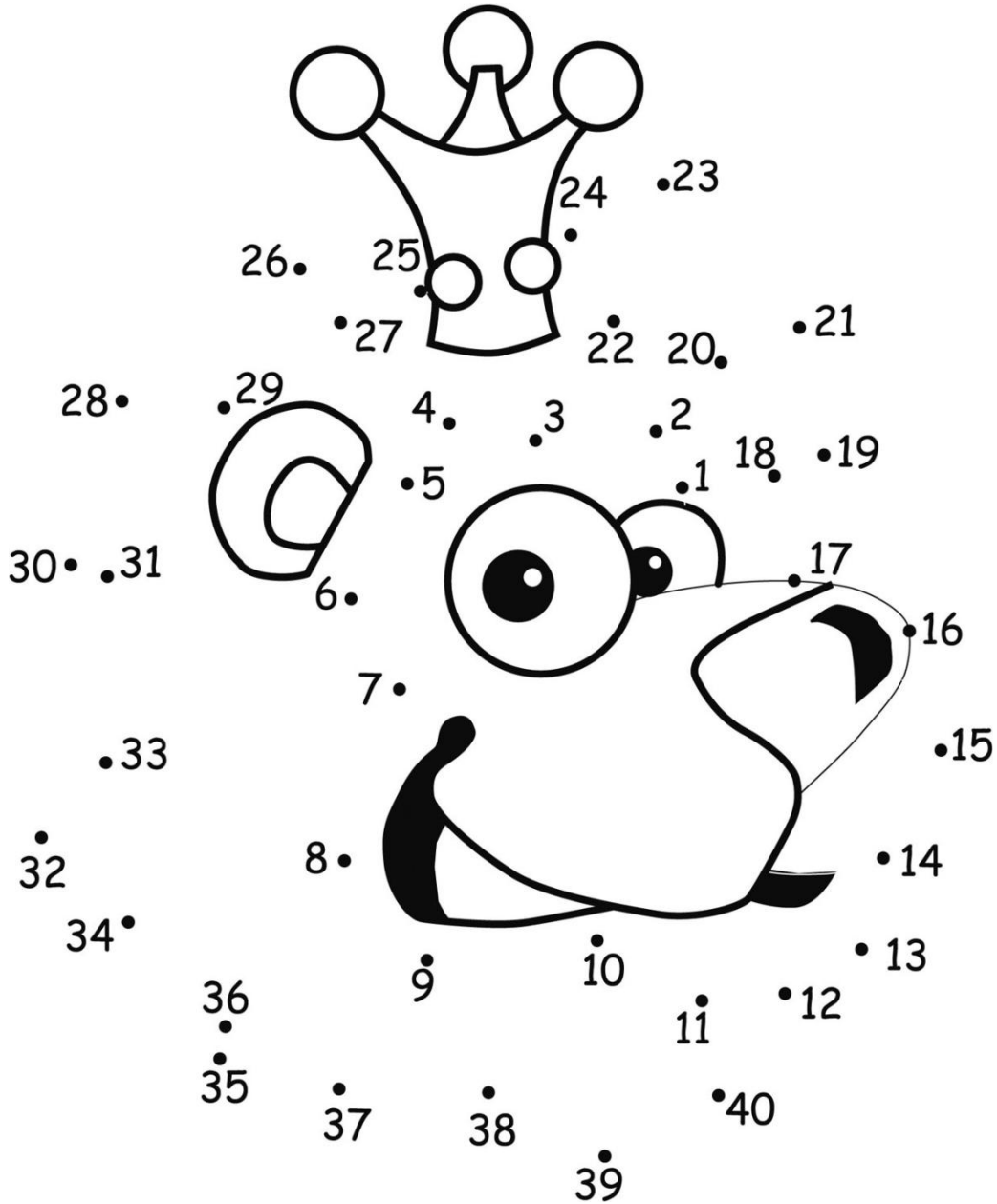
3. Suma el cuerpo del gusano. Inicia desde las antenas, de izquierda a derecha hasta obtener el total.





Unidad 1

4. Une los puntos teniendo en cuenta los números ordinales, encontrarás un lindo dibujo para colorear.






Unidad 1

5. Resuelve las siguientes operaciones:

a. Mariana y sus amigos fueron al parque a jugar, para llegar allí tuvieron que caminar 7 kilómetros. Una semana después caminaron 6 kilómetros para regresar a casa.)

¿Cuántos kilómetros caminaron en total?

b. Los amigos de Camilo decidieron reunirse para ir a acampar después de cinco años de no verse. Unos llevaron 8 carpas naranjas y otros 5 azules. ¿Cuántas carpas armaron en total?





Unidad 1

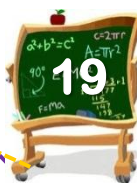
6. Escribe 6 ejercicios para demostrar las reglas de la sustracción. Observa el ejemplo.

$$\begin{array}{r} 3 \\ - 0 \\ \hline 3 \end{array}$$

Regla No. 1

$$\begin{array}{r} 3 \\ - 3 \\ \hline 0 \end{array}$$

Regla No. 2

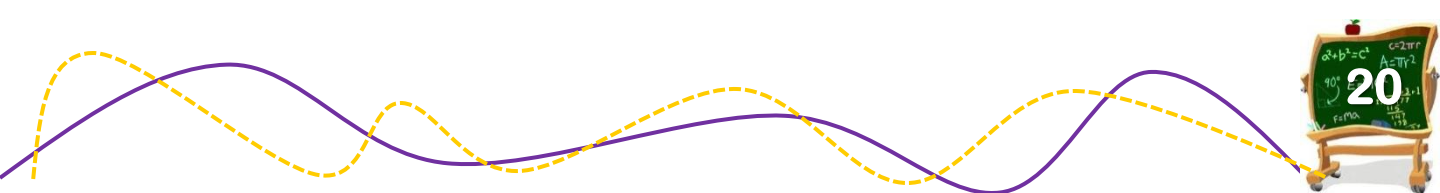









Unidad 1

7. Reemplaza cada letra por el valor asignado en la siguiente tabla. Suma los números. Escribe el resultado en el cuadro.

A 6	V 0	C 8	D 4	E 5	N 9
O 14	P 12	R 14	J 1	G 12	T 7





Unidad 1

8. Escribe cada expresión en forma de número.

1 **c** 4 **d** 2 **u**

9 **c** 7 **d** 4 **u**

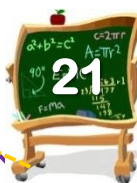
8 **c** 6 **d** 0 **u**

3 **c** 2 **d** 1 **u**

5 **c** 2 **d** 4 **u**

3 **c** 9 **d** 4 **u**

2 **c** 0 **d** 9 **u**





Unidad 1

9. Ordena los números. Escribe el número que sigue.

17 _____
34 _____
87 _____
789 _____

289 _____
81 _____
654 _____
776 _____

Escribe el número que sigue.

_____ 99
_____ 76
_____ 98
_____ 34


_____ 782
_____ 123
_____ 654
_____ 933

Escribe el número según se indica.

1 más _____
1 menos _____
10 más _____
10 menos _____
100 más _____

← 632

67 ↓
1 menos _____
10 más _____
10 menos _____
100 más _____
100 menos _____





Completa los siguientes conjuntos, de acuerdo al ejemplo:

11

$$6 + 5 = \underline{\quad\quad\quad} \quad 5 + \underline{\quad\quad\quad} = 11$$
$$\underline{\quad\quad\quad} - 6 = 5 \quad 11 - 5 = \underline{\quad\quad\quad}$$

12

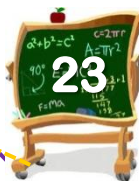

13

14

¡Felicitaciones!

Has terminado la unidad uno del área de matemáticas.

No olvides enviar por email la guía y actividades desarrolladas.





Gimnasio Virtual San Francisco Javier
«Valores y tecnología para la formación integral del ser humano»

Cajicá, Cundinamarca. Km 2 Vía Tabio
Colombia