


Handwritten text in a historical script, likely Latin, located at the top of the page. The text is arranged in several lines and is partially obscured by the top edge of the drawing's circle.



20

Ciencias Sociales

Handwritten text in a historical script, likely Latin, located at the bottom of the page. The text is arranged in several lines and is partially obscured by the bottom edge of the drawing's circle and the overlaid text.



Guía de aplicación

Área / Asignatura:	Ciencias Sociales
Grado :	Segundo
Período :	Segundo
Alumno:	
Guía No.: 1.2	Los paisajes, relieve, clima y recursos

1. Inventa una fábula sobre el paisaje. Dibújala y resalta la moraleja.





Unidad 2

2. Dibuja un paisaje propio del lugar donde vives. Describe los recursos, el clima y las características más importantes.

3. Marca con una x los elementos que forman parte del paisaje de tu región.

Paisaje natural

Montañas Nevado

Ríos Árboles

Mar

Paisaje cultural

Edificios Carreteras

Casas Calles


Puentes





Unidad 2

4. Encierra con color rojo los productos que se elaboran en las zonas rurales y con verde los que se producen en zonas urbanas.



5. Dibuja la clase de atuendo que usarías en:

CLIMA FRIO

CLIMA TEMPLADO

CLIMA CALIDO



6. Responde las siguientes preguntas.


- a. ¿Cómo es tu vivienda?
- b. ¿De qué material está construida tu vivienda?
- c. ¿En qué tipo de vivienda habitas?
- d. ¿Cuáles son los materiales de construcción usados en tu comunidad?

a.	d.
b.	
c.	



Unidad 2

7. Escribe frente a cada producto el clima en donde se cultiva.



8. Observa la imagen y escribe cómo aprovechan las personas estos recursos.





Unidad 2

9. Completa el párrafo con las palabras del recuadro. Realiza un dibujo alusivo a el párrafo.

hervir

potable

filtrar

color


enfermedades

olor

sabor

El agua que se utiliza para beber debe ser _____; esto quiere decir que no contiene microbios que pueden causar _____.

El agua potable tampoco debe tener _____ ni _____, ni _____. Para purificar el agua en casa se debe _____ o _____.



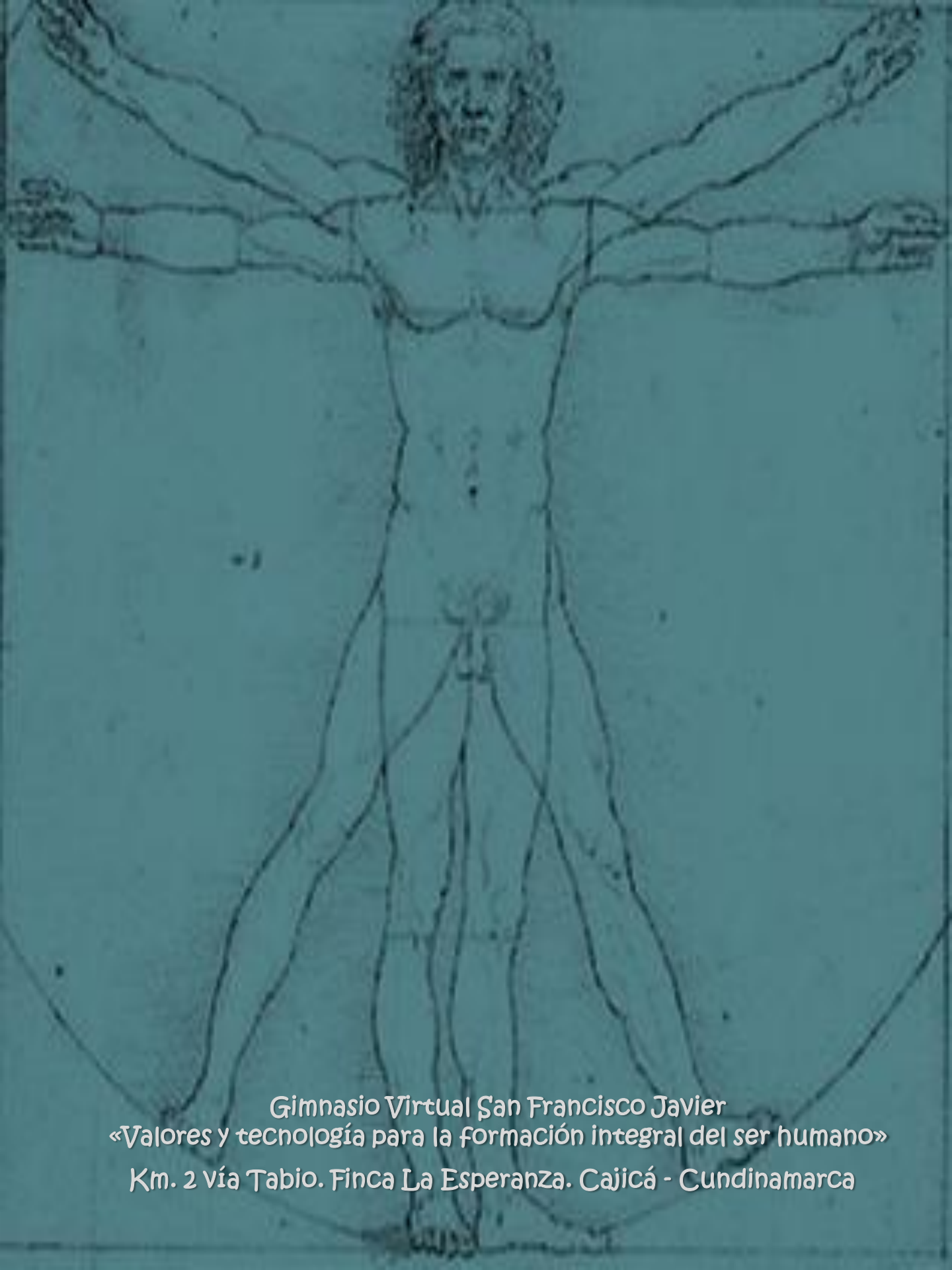
¡Felicitaciones!

Has terminado la unidad dos del área de ciencias sociales.

No olvides enviar por email la guía y actividades desarrolladas.

Nos vemos en la siguiente unidad!





Gimnasio Virtual San Francisco Javier
«Valores y tecnología para la formación integral del ser humano»
Km. 2 vía Tabio. Finca La Esperanza. Cajicá - Cundinamarca