


Handwritten text in a historical script, likely Latin, located at the top of the page. The text is partially obscured by the drawing and is difficult to read.



20

Ciencias Sociales

Handwritten text in a historical script, likely Latin, located at the bottom of the page. The text is partially obscured by the drawing and is difficult to read.



Guía de aplicación

Área / Asignatura:	Ciencias Sociales
Grado :	Segundo
Período :	Tercero
Alumno:	
Guía No.: 1.2	Organizaciones sociales

1. ¿Qué es un municipio y cuáles son sus obligaciones y funciones?

2. Escribe cuáles son los principales municipios de Colombia.



Unidad 3

3. Averigua cuáles son las acciones sociales que promueve la alcaldía de tu municipio.

A large, empty rounded rectangular box with a green dotted border, intended for the student to write their answer to question 3.

4. Averigua quién gobierna tu municipio. Si desconoces el nombre de esta persona, averígualo.

A large, empty rounded rectangular box with a solid purple border, intended for the student to write their answer to question 4.





Unidad 3

5. Escribe el comportamiento que se debe tener en los siguientes lugares públicos:

Un banco

Un parque

Un templo

Una calle



Unidad 3

6. Escribe debajo de cada lugar la importancia de visitarlos con frecuencia.

a.



d.



b.




c.





Unidad 3

7. Completa el dibujo. Escribe la importancia de los diferentes lugares de un municipio. Dibújalos.



8. Escribe al frente de cada ilustración el uso que tiene en tu municipio.

Parque





Teatro



9. Selecciona la respuesta correcta y explica las razones de tu elección.

a. En las ciudades es posible encontrar

- Grandes extensiones de terreno para cultivar.
- Calles, casas, edificios y diferentes medios de transporte.
- Personas que andan a las carreras por el agite de la ciudad.

b. La vida en las ciudades es congestionada porque

- Hay muchas personas que conviven en un espacio reducido.
- Las personas deben desplazarse a sus lugares de trabajo.
- Falta planeación en las ciudades de nuestro país.

c. Es necesario cuidar todos los lugares que usamos porque

- Podemos recibir castigos si los dañamos.
- Las personas que dañan las cosas son destructivas.
- Así permitimos que otras personas las utilicen.

d. En nuestro municipio el aseo es importante porque

- Se mantiene limpio el municipio y libre de contaminación.
- Las basuras pueden provocar múltiples problemas para la salud.
- La limpieza debe ser una norma de vida para todos.





10. Elabora un listado de los recursos que necesitan de mayor cuidado en tu municipio.

Recursos renovables

Recursos no renovables

11. ¿Qué puedes hacer para evitar la contaminación en tu municipio?



Unidad 3

11. Selecciona la palabra que completa la frase:

a. Al saber las necesidades de las personas se puede el futuro.



Adivinar



transformar



predecir



resolver

b. Los censos de población permiten a los gobernantes tomar para mejorar la vida de las personas.



alternativas



decisiones



compromisos



promesas

12. Recorta y pega noticias de periódicos y revistas donde se muestren acciones adelantadas para mejorar el medio ambiente.





Unidad 3

13. Escribe al frente de cada palabra una acción positiva para superarla.

Basuras:

Desechos:

Ruido:

Contaminación:

14. Responde las preguntas de acuerdo con el siguiente texto:

La contaminación del ambiente no sólo se da en el agua. También se presenta en los suelos, debido a los pesticidas, fungicidas (químicos que se utilizan para erradicar plagas de los cultivos), basuras y desechos.

Un suelo contaminado produce cultivos contaminados y esos cultivos terminan contaminando a las personas. Además, el aire también está contaminado, sobre todo en las grandes ciudades. Los carros, las industrias, los fumadores, entre otros influyen en la contaminación del aire.

Frente a los problemas de contaminación, todos los seres humanos tenemos una gran tarea y un gran compromiso, por ello debemos ayudar a no contaminar y a vivir en armonía con el ambiente.

- ¿a qué hace referencia el texto anterior?
- ¿De acuerdo con el texto, donde se presenta la contaminación?
- ¿A qué te invita el texto?

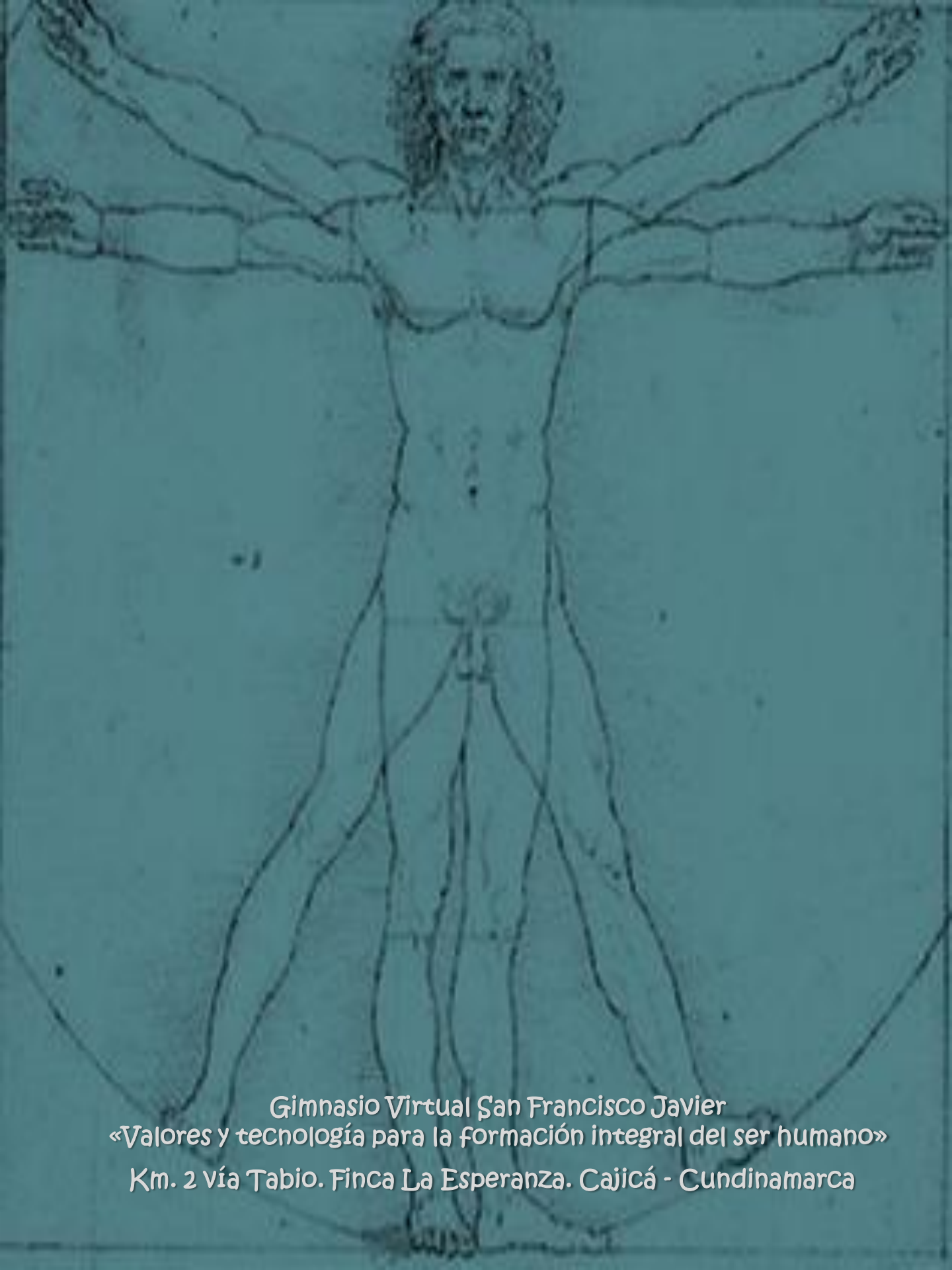
¡Felicitaciones!

Has terminado la unidad tres del área de ciencias sociales.

No olvides enviar por email la guía y actividades desarrolladas.

Nos vemos en la siguiente unidad!





Gimnasio Virtual San Francisco Javier
«Valores y tecnología para la formación integral del ser humano»
Km. 2 vía Tabio. Finca La Esperanza. Cajicá - Cundinamarca