


Handwritten text in a historical script, likely Latin, located at the top of the page. The text is partially obscured by the top edge of the drawing's circle.



30

Ciencias Sociales

Handwritten text in a historical script, likely Latin, located at the bottom of the page, partially obscured by the title text.



Conoce los contenidos

El **Gimnasio Virtual San Francisco Javier**, presenta a través de los textos para la educación primaria el programa y la secuencia de los contenidos de ciencias naturales, enriquecidos con varios videos y temas complementarios.


Con el manejo de este texto vas a adquirir actitudes, habilidades, capacidades y nociones que te permitirán ampliar tu visión del mundo.

Tus contenidos se agrupan en cuatro unidades que contienen sesiones de temas y subtemas de varias páginas. Cada tema inicia con un título, una serie de preguntas, cuya finalidad es despertar tu interés por los contenidos; podrás usar esas preguntas al terminar un tema para constatar tu aprendizaje.


Encontrarás imágenes alusivas a los conceptos y temas, videos, esquemas, mapas conceptuales con sentido didáctico.

Los virtualitos te ayudarán a viajar por esta aventura del conocimiento.

Indaguemos...



Cuando encuentres esta imagen sabrás que hay muchas preguntas por responder, las cuales podrás usar al finalizar un tema para constatar lo que has aprendido.




Cuando encuentres esta imagen tendrás que realizar las actividades correspondientes a cada tema o subtema.



El arte es parte de tus actividades, da un toque personal cuando vayas a colorear. Ahora tú eres el artista!



Virtualito te invita a aprender más sobre el tema, investiga nuevas cosas. Que interesante es conocer!



Sabías qué?
Encontrarás datos curiosos que te invitan a aprender sobre otros temas relacionados.





Guía de aplicación

Área / Asignatura:	Ciencias sociales
Grado :	Tercero
Período :	Segundo
Alumno:	
Guía No.: 1.1	El lugar donde vivimos

1. Escribe lo que indica la señal.



APRENDE A RESPETAR ESTAS SEÑALES
DE TRÁFICO





Unidad 2

2. Teniendo en cuenta el mapa anterior escribe en un lugar adecuado el número de los productos que se nombran en los carteles.

1. Café
2. Ganadería
3. Algodón
4. Pesca
5. Turismo
6. Oro
7. Flores
8. Petróleo
9. Cana





Unidad 2

3. Escribe V si la afirmación es verdadera o F, si es falsa.

- Colombia está dividida en seis regiones naturales.
- La explotación pesquera es el desarrollo en las altas montañas.
- El turismo produce los mayores ingresos en la región Caribe e insular.
- El oro se extrae únicamente en la región Caribe.
- En la región pacífica existen importantes extracciones de plata y platino.
- Los puertos marítimos facilitan el comercio con el exterior.

4. Dibuja un paisaje de páramo y uno de manglar, de acuerdo con sus características.



Unidad 2

5. Completo la siguiente ficha.












El lugar donde vivo se llama: _____

El tipo de paisaje que allí se observa es:

El medio de transporte que más utiliza en mi región es:

Los lugares más interesantes de mi región son:

6. Escribe al lado de la figura el nombre de la señal de tránsito y la acción que indica.

	<input type="text"/>		<input type="text"/>
	<input type="text"/>		<input type="text"/>
	<input type="text"/>		<input type="text"/>
	<input type="text"/>		<input type="text"/>
	<input type="text"/>		<input type="text"/>
	<input type="text"/>		

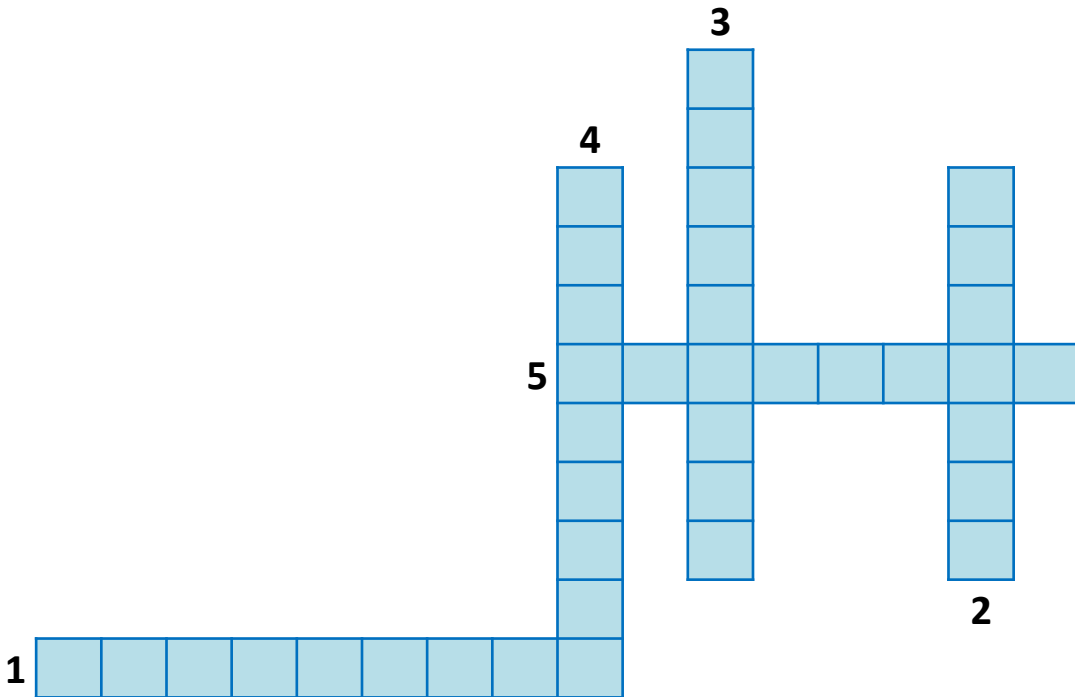


Unidad 2

7. Escribe el sector económico al que corresponde cada actividad.



8. Completa el siguiente crucigrama teniendo en cuenta las características de las regiones naturales y sus características.



1. Así es la llanura del pacífico.
2. Principal actividad económica del Caribe.
3. El café se cultiva en este tipo de zonas.
4. Principal actividad que se desarrolla en la Orinoquia.
5. En esta región hay poco desarrollo de la agricultura.



Unidad 2

9. Realiza un plano de tu localidad. Ubica los centros comerciales, hospitales, escuelas, bibliotecas, etc. Ubica en cada una la nomenclatura que lo va a identificar. Escribe en la tarjeta los datos solicitados.

Principales parques: _____

¿Tiene estadio? Si ___ no ___ Nombre: _____

Nombre de la biblioteca: _____

Principales sitios de interés: _____


Principales sitios comerciales: _____

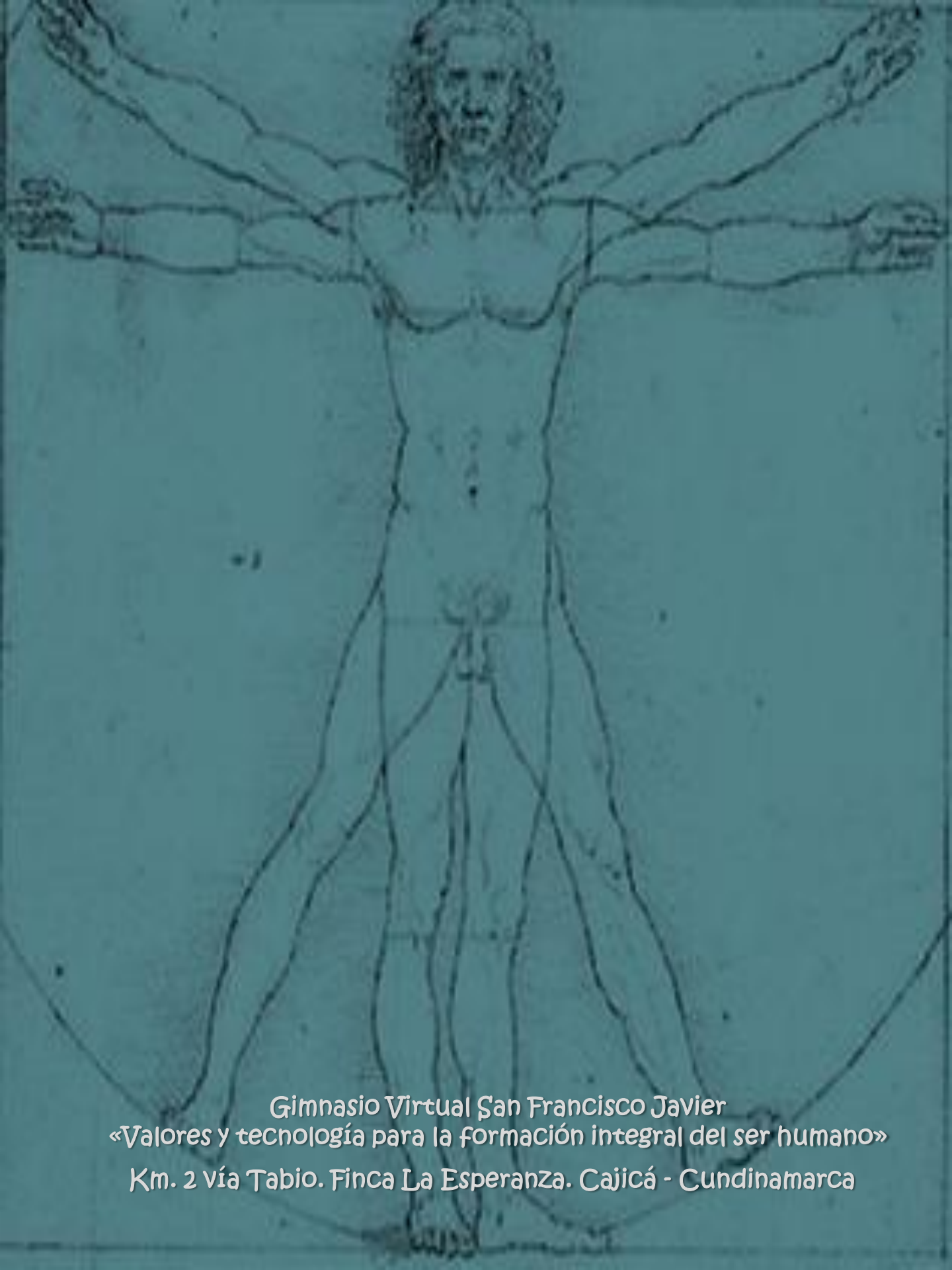
¡Felicitaciones!

Has terminado la unidad dos del área de ciencias sociales.

No olvides enviar por email la guía y actividades desarrolladas.

Nos vemos en la siguiente unidad!





Gimnasio Virtual San Francisco Javier
«Valores y tecnología para la formación integral del ser humano»
Km. 2 vía Tabio. Finca La Esperanza. Cajicá - Cundinamarca